


השוואות בין עצמים


(1) מי גדול יותר?




(2) מי קצר יותר?




(3) למי יש מקור ארוך יותר?



(4) איזה מזלג קטן יותר?




(5) מי הגבוה ביותר?

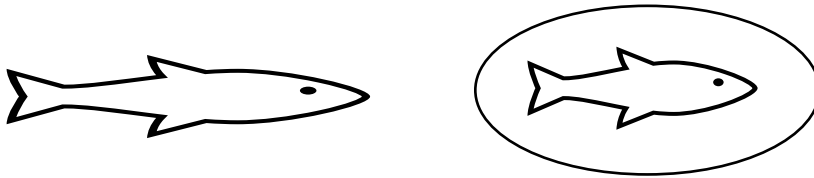


תשובות


(6) מי גדול יותר?




(7) מי קצר יותר?



(8) למי יש מקור ארוך יותר?



(9) איזה מזלג קטן יותר?



(10) מי הגבוה ביותר?

