



משוואות פשוטות עם ציורים:

(1)


 $+ 4 = 6$


 $=$

(2)

$5 -$


 $= 2$


 $=$

(3)

$1 +$


 $= 5$


 $=$

(4)


$7 -$


 $= 3$


 $=$

תשובות

(5)


 $+ 4 = 6$


 $= 1$

(6)

$5 -$


 $= 2$


 $= 1$

(7)

$1 +$


 $= 5$


 $= 4$

(8)

$7 -$

 $= 3$


 $= 2$