


מציאת כמות משלם ויזואלי

פתרו את התרגילים הבאים:




1. כמה זה $\frac{1}{4}$ מ-16?

2. כמה זה $\frac{2}{5}$ מ-35?




3. כמה זה $\frac{1}{2}$ מ-24?

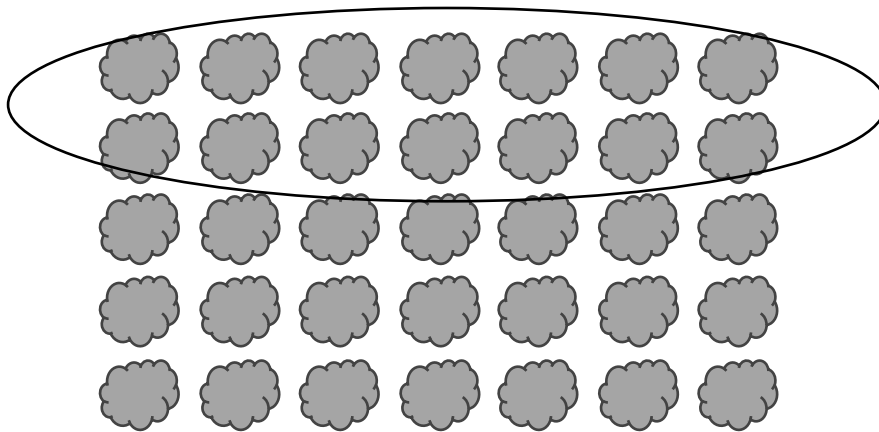


תשובות

1. $16 \times \frac{1}{4} = 4$



2. $35 \times \frac{2}{5} = 14$



3. $24 \times \frac{1}{2} = 12$

