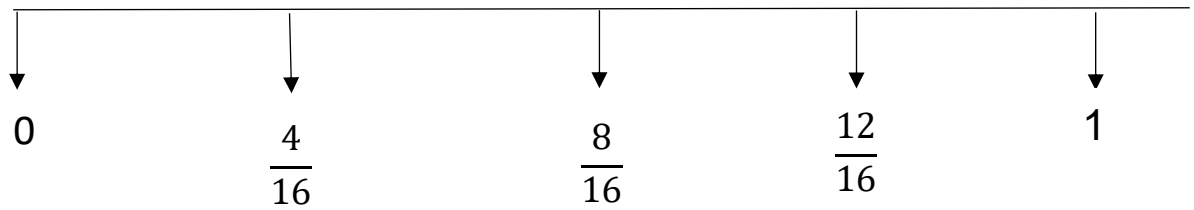



ישר המספרים

לפניכם שברים בעלי מכנים שונים. הרחיבו/ צמצמו אותם על מנת לקבל מכנים זהים ומקמו אותם על הישר:

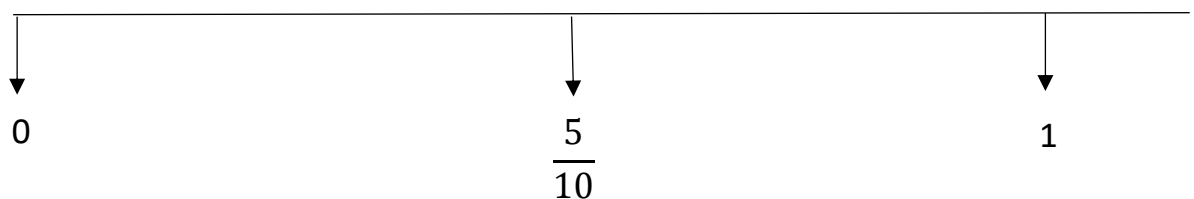
$$\frac{5}{16} \quad \frac{7}{8} \quad \frac{2}{16} \quad \frac{15}{16} \quad \frac{3}{8} \quad \frac{1}{8}$$



$$\frac{8}{9} \quad \frac{5}{9} \quad \frac{2}{3} \quad \frac{2}{9} \quad \frac{1}{3}$$



$$\frac{3}{10} \quad \frac{6}{10} \quad \frac{1}{5} \quad \frac{3}{5} \quad \frac{7}{10} \quad \frac{2}{5}$$



תשובות:
ישר המספרים

לפניכם שברים בעלי מכנים שונים. הרחיבו/ צמצמו אותם על מנת לקבל מכנים זהים ומקמו אותם על הישר:

