




1. צבעו רבע מהצורה הנתונה:




2. צבעו שליש מהצורה הנתונה:



3. איזה חלק מהצורה הנתונה צבוע באפור?



4. צבעו שמינית מהצורה הנתונה:



5. איזה חלק מהצורה הנתונה צבוע באפור?

