



הכרת השבר


1. צבעו חצי מהצורה הנתונה:



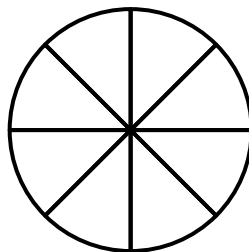
2. איזה חלק מהצורה הנתונה צבוע באפור?



3. איזה חלק מהצורה הנתונה צבוע באפור?



4. צבעו רבע מהצורה הנתונה:



5. צבעו חצי מהצורה הנתונה:

