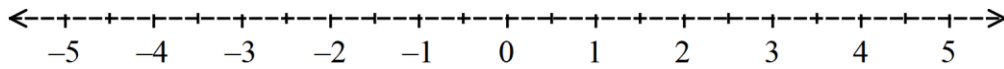


ציר המספרים

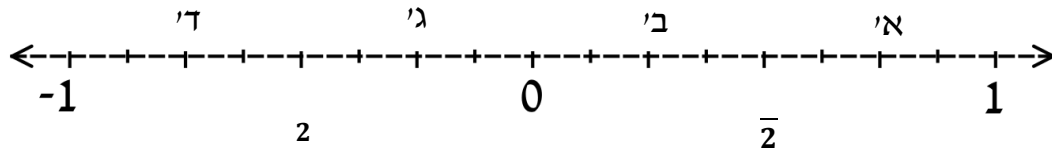
1. שבצו את המספרים על ציר המספרים:

$$\frac{1}{2}, -1\frac{1}{2}, \frac{5}{2}, -\frac{7}{2}$$



2. עבור כל מספר בסעיפים הבאים, קבעו באיזה חלק של ציר המספרים הוא

נמצא.



א.  $\frac{1}{4}$  : \_\_\_\_\_

ב.  $-\frac{1}{3}$  : \_\_\_\_\_

ג.  $\frac{1}{7}$  : \_\_\_\_\_

ד.  $\frac{12}{16}$  : \_\_\_\_\_

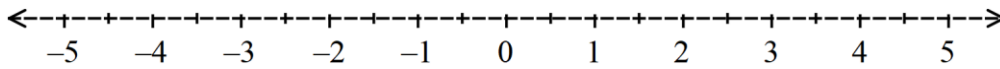
ה.  $-\frac{7}{8}$  : \_\_\_\_\_

ו.  $\frac{5}{25}$  : \_\_\_\_\_

תשובות

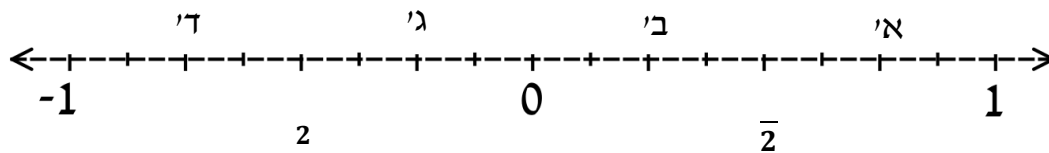
1. שבצו את המספרים על ציר המספרים:

$$\frac{1}{2}, -1\frac{1}{2}, \frac{5}{2}, -\frac{7}{2}$$



2. עבור כל מספר בסעיפים הבאים, קבעו באיזה חלק של ציר המספרים הוא

נמצא.



א.  $\frac{1}{4}$  : ב'

ב.  $-\frac{1}{3}$  : ג'

ג.  $\frac{1}{7}$  : ב'

ד.  $\frac{12}{16}$  : א'

ה.  $-\frac{7}{8}$  : ד'

ו.  $\frac{5}{25}$  : ב'