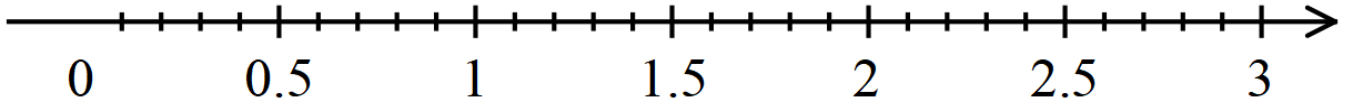


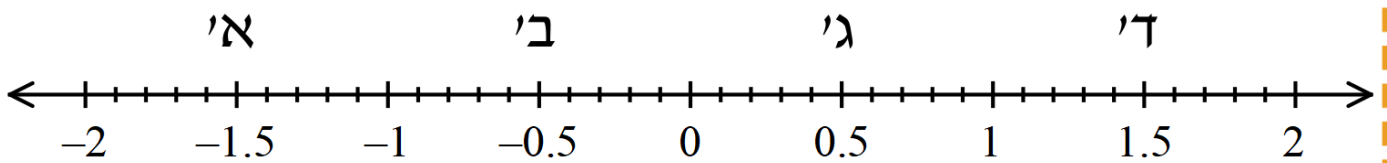
מיקום שברים על ישר המספרים

1. מקמו את השברים הבאים על ישר המספרים:

$$2\frac{1}{3}, 1, \frac{1}{5}, 0.75, 1\frac{1}{4}, \frac{8}{4}, 0.6, \frac{3}{9}$$



2. השלימו באיזה חלק של ישר המספרים נמצא כל אחד מהמספרים הבאים:



א.  $\frac{3}{2}$  : \_\_\_\_\_

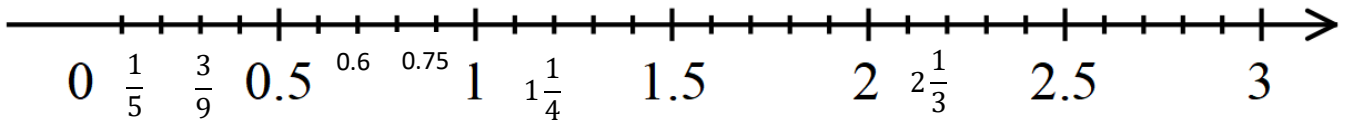
ב.  $-\frac{2}{3}$  : \_\_\_\_\_

ג.  $\frac{3}{11}$  : \_\_\_\_\_

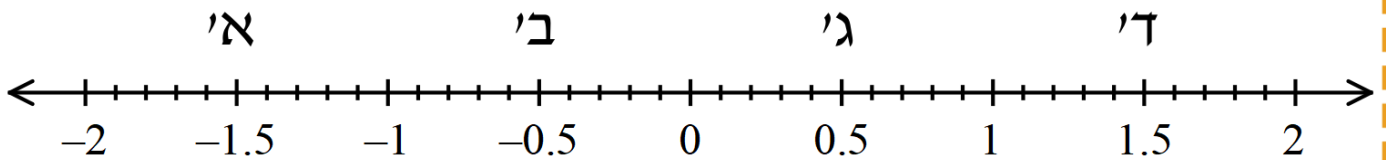
מיקום שברים על ישר המספרים

3. מקמו את השברים הבאים על ישר המספרים:

$$2\frac{1}{3}, 1, \frac{1}{5}, 0.75, 1\frac{1}{4}, \frac{8}{4}, 0.6, \frac{3}{9}$$



4. השלימו באיזה חלק של ישר המספרים נמצא כל אחד מהמספרים הבאים:



ד.  $\frac{3}{2}$ : \_\_\_\_\_ ד'

ה.  $-\frac{2}{3}$ : \_\_\_\_\_ ב'

ו.  $\frac{3}{11}$ : \_\_\_\_\_ ו'

A large rectangular area defined by dashed lines, intended for cutting and coloring. The top border is pink, the right border is orange, the bottom border is blue, and the left border is green. Each corner has a small cross-shaped icon where the lines meet.