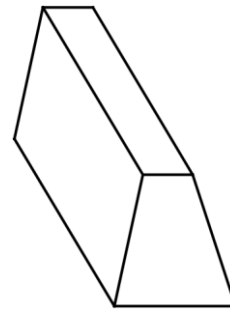


גופים

השלימו עבור כל גוף תלת ממדי:

1.



א. מקצועות: \_\_\_\_\_

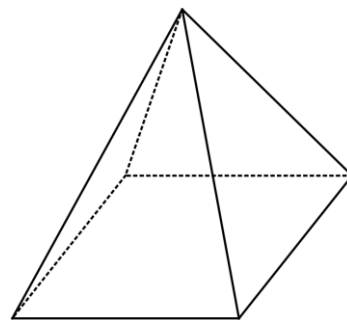
ב. פאות: \_\_\_\_\_

ג. קודקודים: \_\_\_\_\_

ד. כמה פאות מלבניות יש למנסרה? \_\_\_\_\_

ה. כמה פאות בצורת טרפז יש למנסרה? \_\_\_\_\_

2.



א. מקצועות: \_\_\_\_\_

ב. פאות: \_\_\_\_\_

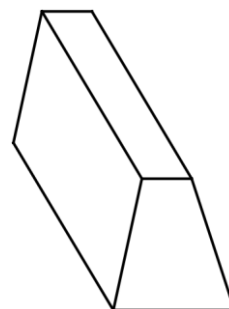
ג. פאות מרובעות: \_\_\_\_\_

ד. פאות בצורת משולש: \_\_\_\_\_

תשובות

השלימו עבור כל גוף תלת ממדי:

3.



ו. מקצועות: 12

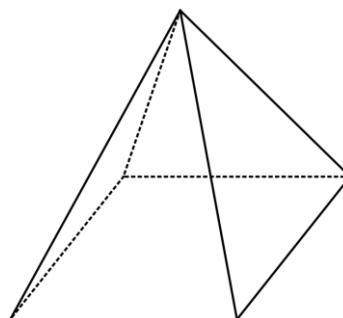
ז. פאות: 6

ח. קודקודים: 8

ט. כמה פאות מלבניות יש למנסרה? 4

י. כמה פאות בצורת טרפז יש למנסרה? 2

4.



ה. מקצועות: 8

ו. פאות: 5

ז. פאות מרובעות : 1

ח. פאות בצורת משולש : 4