
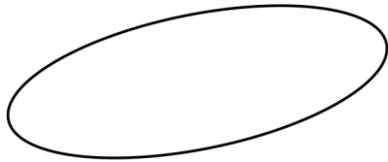
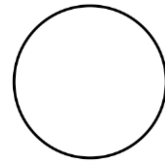
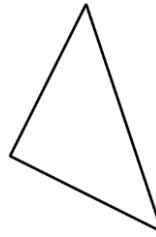

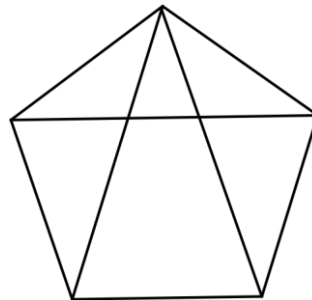


1. הקיפו בצבע ירוק את המעגלים.
2. הקיפו בצבע כחול את הריבועים.
3. הקיפו בצבע אדום את המלבנים.



4. כמה משולשים יש בשרטוט הבא:



5. כמה מלבנים יש בשרטוט הבא:

