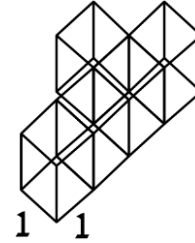
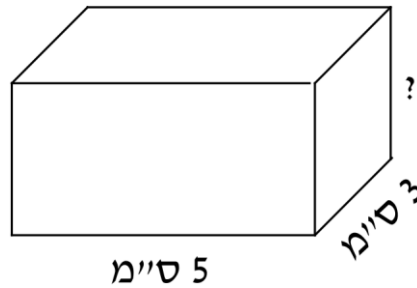


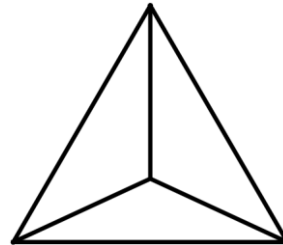
1. מה הנפח של הגוף הבא?



2. מה צריך להיות גובהה של התיבה כדי שנפחה יהיה 30 סמ"ק? _____



3. נתון הגוף הבא:

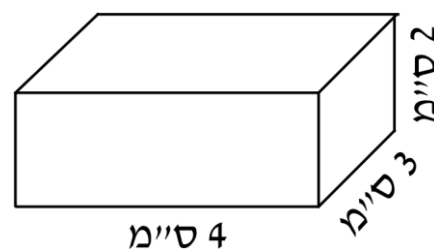


א. כמה מקצועות יש לו? _____

ב. כמה פאות יש לו? _____

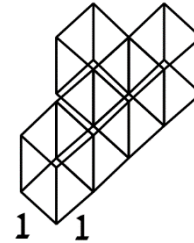
ג. כמה קודקודים יש לו? _____

4. כמה קוביות שנפחן 1 סמ"ק נכנסות בתיבה הבאה? _____

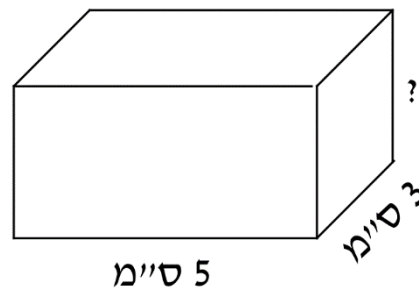


תשובות

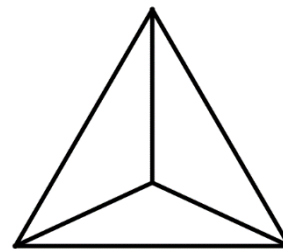
5. מה הנפח של הגוף הבא? 5 יחידות נפח



6. מה צריך להיות גובהה של התיבה כדי שנפחה יהיה 30 סמ"ק? 2 ס"מ



7. נתון הגוף הבא:



ד. כמה מקצועות יש לו? 6

ה. כמה פאות יש לו? 4

ו. כמה קודקודים יש לו? 4

8. כמה קוביות שנפחן 1 סמ"ק נכנסות בתיבה הבאה? 24

