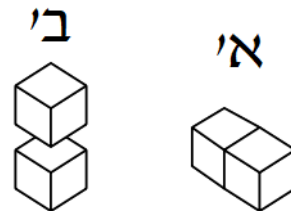


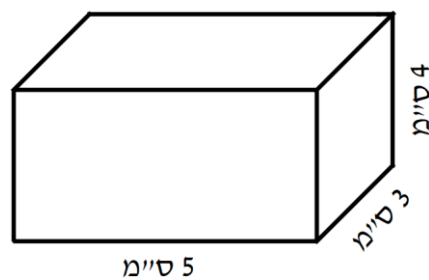
1. הפרידו את צורה א' לצורה ב'.



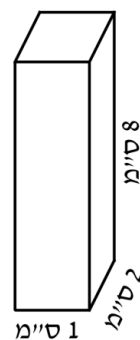
א. שטח הפנים של הצורה : גדל/ קטן/ לא השתנה

ב. נפח הצורה : גדל/ קטן/ לא השתנה

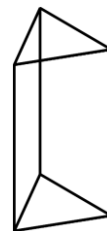
2. מה שטח הפנים של התיבה?



3. כמה קוביות שנפחן 1 סמ"ק נכנסות בתיבה הבאה?

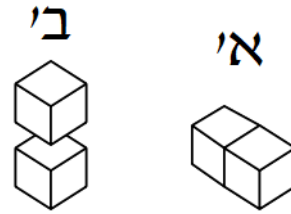


4. כמה פאות מלבניות יש לגוף הבא?



תשובות

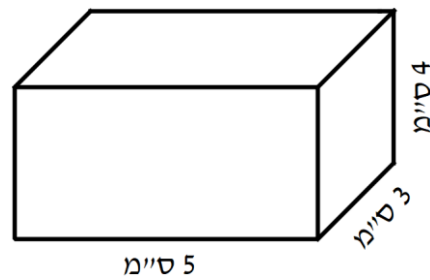
1. הפרידו את צורה א' לצורה ב'.



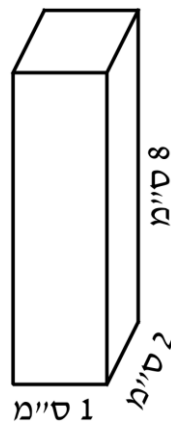
א. שטח הפנים של הצורה: גדל/ קטן/ לא השתנה

ב. נפח הצורה: גדל/ קטן/ לא השתנה

2. מה שטח הפנים של התיבה? 104 סמ"ר



3. כמה קוביות שנפחן 1 סמ"ק נכנסות בתיבה הבאה? 16



4. כמה פאות מלבניות יש לגוף? 3

