

1. מצאו את הצלע החסרה כך שהשטח של הריבוע יהיה שווה לשטח של המלבן.

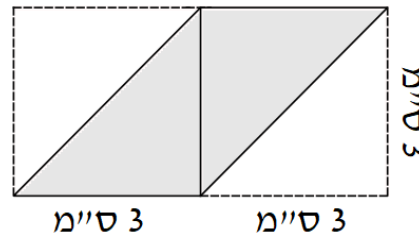


16 ס"מ



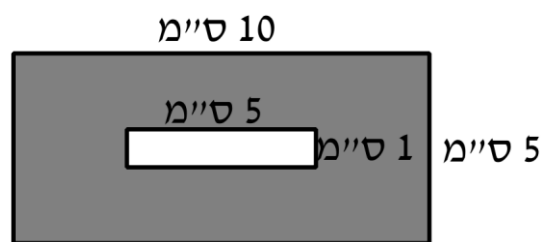
8 ס"מ

2. מה השטח של החלק האפור בשרטוט?

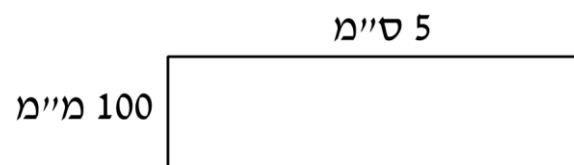


3. כמה ריבועים ששטחם 1 סמ"ר נכנסים בריבוע ששטחו 1 מ"ר? _____

4. מה השטח של החלק האפור? _____

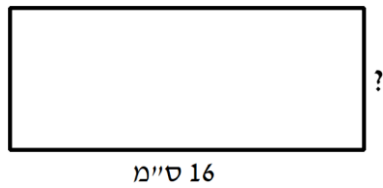


5. מה שטח המלבן? _____

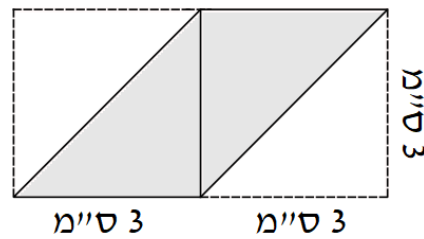


תשובות

1. מצאו את הצלע החסרה כך שהשטח של הריבוע יהיה שווה לשטח של המלבן. 4 ס"מ

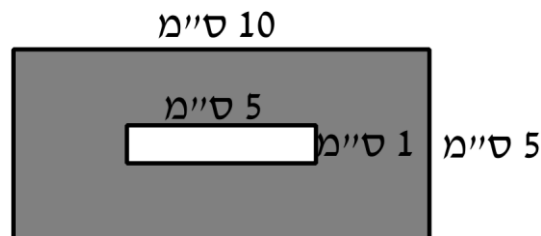


2. מה השטח של החלק האפור בשרטוט? 9 ס"מ²



3. כמה ריבועים ששטחם 1 סמ"ר נכנסים בריבוע ששטחו 1 מ"ר? 10,000

4. מה השטח של החלק האפור? 45 ס"מ²



5. מה שטח המלבן? 5 ס"מ²

