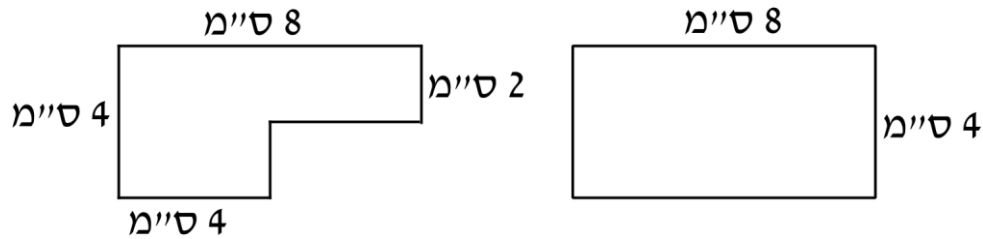


1. בכמה גדול ההיקף של צורה א' מההיקף של צורה

ב'?



2. אלון רוצה לבנות גדר סביב ביתו, עלות בנייה של מטר גדר היא 15 ₪.

רוחבה של החצר הוא 15 מטרים ואורכה 13 מטרים.

א. כמה תעלה הגדר?

ב. במרכז החצר ממוקם הבית.

שטחה של החצר הוא 95 מ"ר. מה השטח של הבית?


ג. מה יכולות להיות מידותיו של

_____ הבית?

3. פי כמה יגדל שטח של ריבוע אם נגדיל את צלעו פי 2?

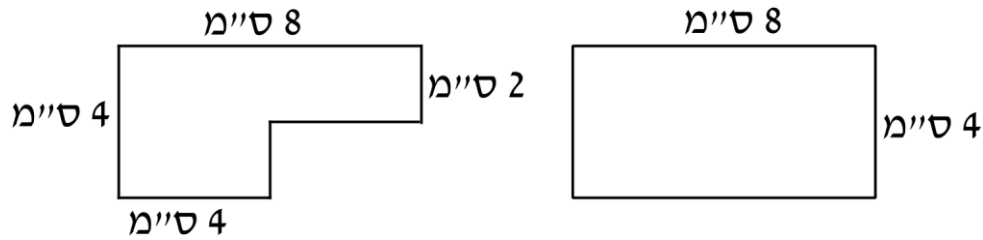
4. מצאו את ארוכה של הצלע החסרה כך ששטחו של המלבן יהיה 75

_____ סמ"ר:



תשובות

1. בכמה גדול ההיקף של צורה א' מההיקף של צורה ב'? ההיקפים שווים



2. אלון רוצה לבנות גדר סביב ביתו, עלות בנייה של מטר גדר היא 15 ₪.

רוחבה של החצר הוא 15 מטרים ואורכה 13 מטרים.

א. כמה תעלה הגדר? 840 ₪

ב. במרכז החצר ממוקם הבית.

שטחה של החצר הוא 95 מ"ר. מה השטח של הבית?

100 מ"ר

ג. מה יכולות להיות מידותיו של הבית? 2×50 , 4×25 , 10×10

3. פי כמה יגדל שטח של ריבוע אם נגדיל את צלעו פי 2? פי 4

4. מצאו את ארוכה של הצלע החסרה כך ששטחו של המלבן יהיה 75 סמ"ר : 25

