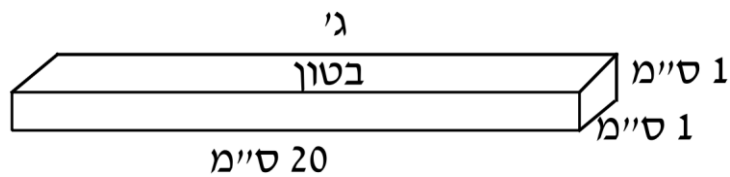
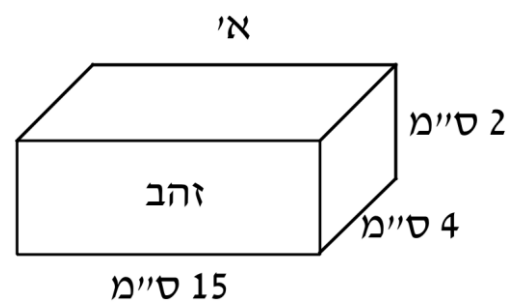
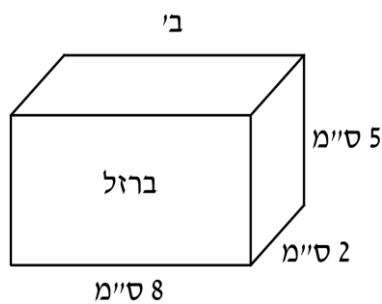


1. משקלו הסגולי של זהב הוא 20 גרם לסמ"ק.

משקלו הסגולי של ברזל הוא 40 גרם לסמ"ק.

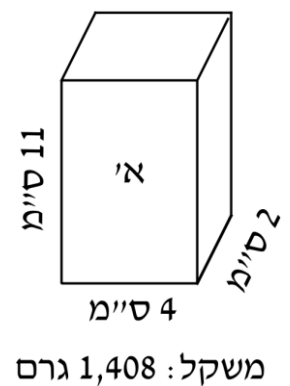
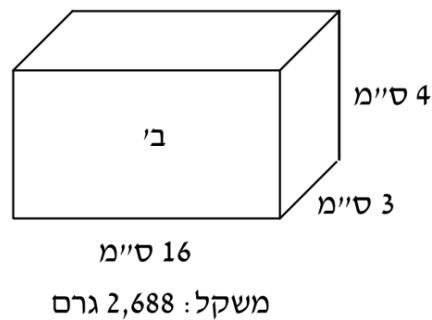
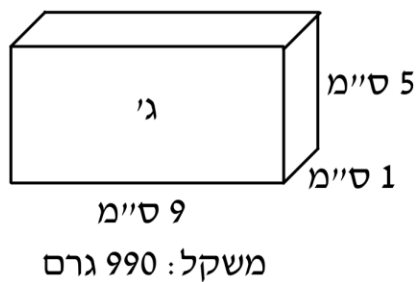
משקלו הסגולי של בטון 100 גרם לסמ"ק.

סדרו את התיבות הבאות לפי משקלן: _____, _____, _____.



2. נתונות תיבות שעשויות מחומרים שונים ומידותיהן. קבעו לאיזה חומר יש

את המשקל הסגולי הגבוה ביותר, וחשבו מהו: _____.

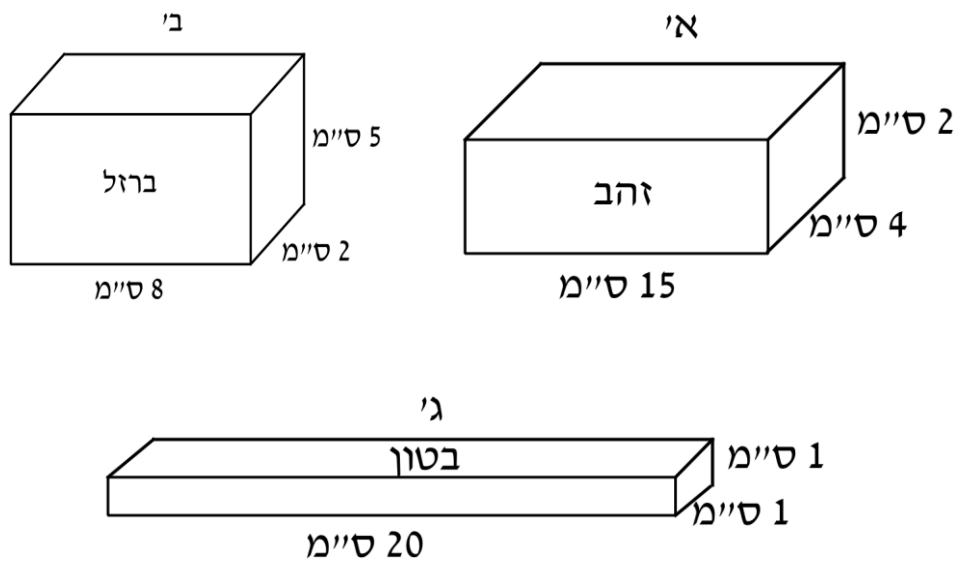


1. משקלו הסגולי של זהב הוא 20 גרם לסמ"ק.

משקלו הסגולי של ברזל הוא 40 גרם לסמ"ק.

משקלו הסגולי של בטון 100 גרם לסמ"ק.

סדרו את התיבות הבאות לפי משקלן: א', ב', ג'.



1. נתונות תיבות שעשויות מחומרים שונים ומידותיהן. קבעו לאיזה חומר יש

את המשקל הסגולי הגבוה ביותר, וחשבו מהו: א', ב' 22 ארט אסמ"ק.

